

Opakování 3. ročník

Zaokrouhli na desítky

$24 \approx$

$55 \approx$

$39 \approx$

$48 \approx$

$71 \approx$

$33 \approx$

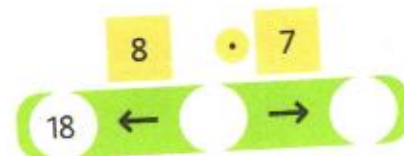
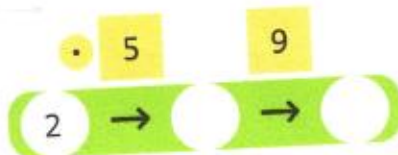
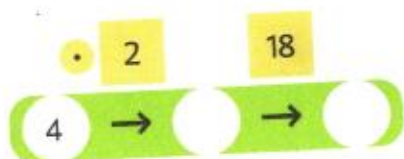

$4 \approx$

$12 \approx$

POKRYJI PODLAHU PARKETAMI.



Jak položím parkety?



DOPLNÍM ZVÍŘÁTKO TAK, ABY BYLA DRUŽSTVA STEJNĚ SILNÁ.

$$\triangle \text{cat} = \uparrow \underline{\hspace{1cm}}$$

$$\triangle \text{v} \text{v} = \text{cat} \underline{\hspace{1cm}}$$

$$\triangle \text{v} = \uparrow \underline{\hspace{1cm}}$$

$$\uparrow \text{cat} \text{cat} = \uparrow \underline{\hspace{1cm}}$$

$$\uparrow \triangle \text{v} = \triangle \underline{\hspace{1cm}}$$

$$\triangle \uparrow \text{v} = \text{cat} \text{cat} \underline{\hspace{1cm}}$$

VYŘEŠÍM NÁSOBILKOVÉ ČTVERCE.

3		3
2		4

4		6
2	6	

	16	
		8
5		2

		8
42		
6		3

9		5
5		9

9		8
		56
	49	

VRÁTÍM ČÍSLA NEPOSEDY ZPĚT.

	10		
	28		